

تم التحميل من شبكة ياكويت التعليمية



Telegram:
[ykuwait_net_home](https://t.me/ykuwait_net_home)

منطقة العاصمة التعليمية

www.ykuwait.net
التنمؤ وازجاءة
الاباء جابة



وزارة التربية
الإدارة العامة لمنطقة العاصمة التعليمية
التوجيه الفني للاجتماعيات
نموذج إجابة امتحان نهاية الفترة الدراسية الثانية العام الدراسي: ٢٠٢٣ / ٢٠٢٤ م
الزمن: ساعة وخمس وأربعون دقيقة
مقرر (الكويت ودول الخليج العربية)
عدد الأوراق: ٥ أوراق

السؤال الأول (موضوعي): ويتكون من (أ - ب):

(أ) أكمل العبارات التالية بما يناسبها مما درست:

(٦ درجات - لكل نقطة درجة)

- ١- الدولة الخليجية الأعلى في نسبة الوافدين تسمىالإمارات..... ص ١١٢
- ٢- وحدة قياس شدة الضوضاء التي تتعرض لها الأذن البشرية تسمى ... الديسبل ص ١٣٤
- ٣- كميات النفط المخزونة في باطن الأرض تسمى.....احتياطي النفط..... ص ٨٨
- ٤- المدينة التي يقع فيها مقر مكتب التربية العربي لدول مجلس التعاون الخليجي اسمها...الرياض..... ص ١٣٠
- ٥- العام الذي بدأ فيه التنقيب عن النفط في دولة الكويت١٩٣٤م..... ص ٨٧
- ٦- عدد الآبار النفطية الكويتية التي قام العدوان العراقي بإشغالها.....٧٣٧..... ص ١٣٩

(ب) اختر الإجابة الصحيحة من بين البدائل التالية بوضع خط تحتها: (٦ درجات - لكل نقطة درجة)

١- المحصول الذي نجحت المملكة العربية السعودية في زراعته: ص ٩٢

تم التحميل من شبكة ياكويت التعليمية

(الأرز -

- القمح -

- الذرة -

القطن)

٢- العمالة المنزلية تمثل أحد مشكلات دول الخليج العربية في المجال : ص ١٤٢

(- الاجتماعي -

- الثقافي -

- الاقتصادي -

السياسي)

٣- مصدر طبيعي لتلوث الهواء: ص ١٣٤

(- الصناعة -

- المبيدات الحشرية -

- البراكين -

حرق النفايات)

٤- درع واق للأحياء ضد خطر الأشعة فوق البنفسجية الضارة: ص ١٣٥

(- الهواء -

- الأوزون -

- الضباب -

الدخان)

٥- تم تصدير أول شحنة من النفط الكويتي في عهد الشيخ: ص ٩٠

(- أحمد الجابر -

- جابر الأحمد -

- مبارك الصباح -

عبدالله السالم)

٦- أصغر دولة خليجية من حيث المساحة: ص ١١٤

(- عمان -

- قطر -

- الكويت -

البحرين)

السؤال الثاني (موضوعي): ويتكون من (أ - ب):

(أ) صنف الهجرات التالية في مكانها الصحيح حسب الجدول التالي: (٦ درجات - لكل نقطة درجة)

(القواسم - المعاضيد - آل الصباح - الأزد - بني ياس - آل خليفة) ص ١٠٨

| | | | | | |
|------------------|-----------------|-----------------|----------------|----------------|--------------|
| دولة الكويت | البحرين | قطر | أبو ظبي | رأس الخيمة | عُمان |
| <u>آل الصباح</u> | <u>آل خليفة</u> | <u>المعاضيد</u> | <u>بني ياس</u> | <u>القواسم</u> | <u>الأزد</u> |


تم التحميل من شبكة ياكويت التعليمية



(٦ درجات - لكل نقطة درجة)

(ب) أكمل المخططات السهمية التالية:

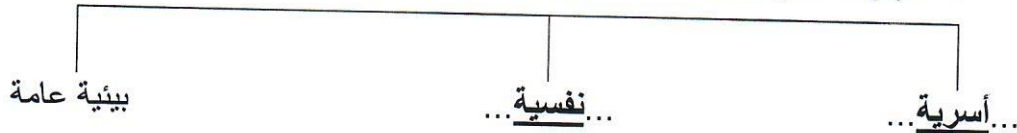
١- الروابط التي تربط سكان دول الخليج العربية ص ١١٧، ١١٨، ١١٩، ١٢٠



٢- أهم أنواع صناعات منطقة الشعبية في دولة الكويت ص ٩٦



٣- أسباب انتشار مشكلة العنف بين المتعلمين ص ١٤٩



السؤال الثالث (موضوعي): ويتكون من (أ - ب - ج): (٤ درجات - لكل نقطة درجة) ص ١٢٩ ، ١٣٠

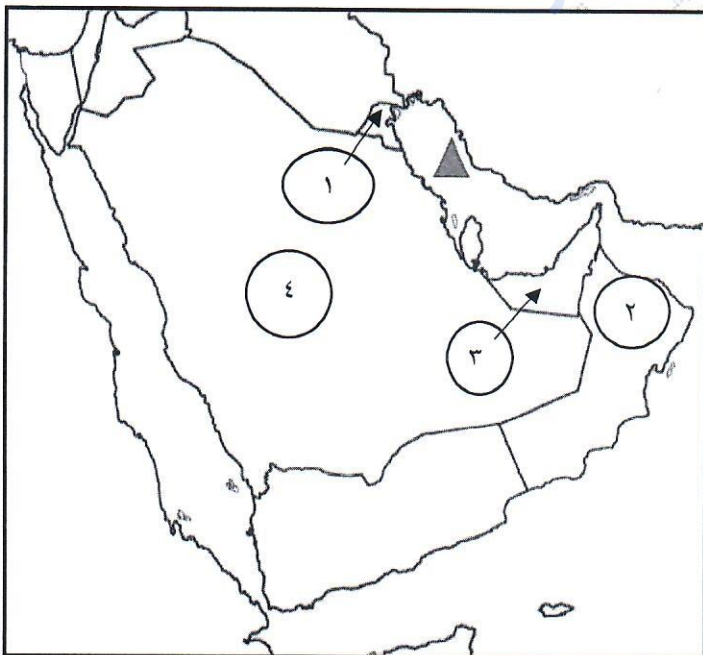
(أ) اختر لعبارات القائمة (ب) ما يناسبها من القائمة (أ) بوضع الرقم الصحيح بين القوسين:

| م | القائمة (أ) | الرقم الصحيح | القائمة (ب) |
|---|---------------|--------------|---|
| ١ | تعاون سياسي | (٢) | المناورات العسكرية المختلفة |
| ٢ | تعاون عسكري | (١) | مناصرة القضايا العادلة مثل قضية الشعب الفلسطيني |
| ٣ | تعاون اقتصادي | (٤) | توحيد المناهج التعليمية وتطويرها |
| ٤ | تعاون ثقافي | (٣) | زيادة التبادل التجاري |
| | | () | دورة كأس الخليج لكرة القدم |

(ب) اكتب المفهوم أو المصطلح الدال على كل من العبارات التالية: (٤ درجات - لكل نقطة درجة)

- ١- (الزراعة بدون تربة) الزراعة التي تتم في بيئة مائية أو رملية أو حصى أو نشارة خشب تضاف إليها المحاليل الغذائية. ص ٩٤
- ٢- (.....السلالة.....) مجموعة من الناس تشترك فيما بينها في الصفات الجسمانية الرئيسية كلون الجلد وشكل الأنف وشكل الشعر وطول القامة. ص ١٠٦
- ٣- (.....التلوث.....) الضرر الذي يصيب عناصر البيئة الأساسية فتتحول من عناصر مفيدة إلى عناصر ضارة. ص ١٣٣
- ٤- (الكثافة السكانية) عدد السكان في الكيلو متر مربع، وتقاس بقسمة عدد السكان على مساحة الدولة. ص ١١٤

(ج) لاحظ خريطة شبه الجزيرة العربية التي أمامك ثم استعن بالمدلولات التي عليها لإكمال العبارات التالية: درجات



- ١- الشكل ▲ يمثل مسطح مائي يسمى الخليج العربي ص ٩١
- ٢- دولة خليجية لم تتعرض للاستعمار الأجنبي يمثلها على الخريطة الرقم (٤) ص ١٢٠
- ٣- الدولة الخليجية التي يوجد بها حقل برقان يمثلها على الخريطة الرقم (١) ص ٩١
- ٤- الدولة الخليجية التي يوجد بها سهل الباطنة يمثلها على الخريطة الرقم (٢) ص ٩٢

السؤال الرابع (مقالى): ويتكون من (أ - ب - ج):

(أ) لاحظ الشكل المقابل ثم أجب عن الأسئلة التالية: (٤ درجات - لكل نقطة درجة)



١- سجل عنواناً مناسباً للصورة المقابلة. ص ١٤٤ ، ١٤٥

مشكلة العنف (وكل ما يراه المصحح مناسباً).....

٢- عدد أشكال أو صور العنف. (يكتفى بنقطتين)

... (العنف اللفظي - التدمير - التخريب)

٣- اقترح حلولاً لمشكلة العنف. ص ١٥٠ (يكتفى بنقطة واحدة)

..... الاهتمام الجاد بالقرآن الكريم والسنة النبوية - الاهتمام بالقراءة والمطالعة بدلاً من أصدقاء السوء -

القوة الحسنة مع كل المحيطين بالشباب - اتباع أساليب الحوار والتفاهم في علاج المشكلات والخلافات.....

(وما يراه المصحح مناسباً)

(ب) عرف لكل مما يلي: (٤ درجات - لكل نقطة درجة)

١- الترانزيت: إعادة تصدير البضائع المستوردة. ص ٩٩

٢- الثقافة: مجموعة من العادات والتقاليد والقيم في مجتمع من المجتمعات. ص ١١٨

٣- إنتاج النفط: ... كميات النفط التي يتم استخراجها للاستفادة منها. ص ٨٨

٤- الزيادة الطبيعية: عدد المواليد - عدد الوفيات. ص ١١٠

(ج) اكتب نقطتين فيما يلي: (٤ درجات - لكل نقطة درجة)

١- التحديات التي تواجه دول الخليج العربية. ص ١٣٢ (يكتفى بنقطتين - لكل نقطة درجة)

..... الأمن الغذائي - التلوث البيئي - الأخطار الخارجية والداخلية.....

..... ندرة المياه الجوفية - الاعتماد على الموارد النفطية فقط - الغزو الثقافي.....

٢- أهم الدول المستوردة للنفط الكويتي. ص ٩٠ (يكتفى بنقطتين - لكل نقطة درجة)

..... الولايات المتحدة الأمريكية - هولندا.....

..... اليابان.....



السؤال الخامس (مقالى): ويتكون من (أ - ب - ج):

(أ) **اقرأ الفقرة التالية ثم أجب عما يليها من أسئلة:** ص ١١٠ ، ١١١ (٤ درجات - لكل نقطة درجة)

شهدت منطقة الخليج العربية بعد اكتشاف النفط نمواً سكانياً مطرداً (فجائياً) نتيجة لأسباب عدة أهمها، ارتفاع دخل الفرد - توفر الرعاية الصحية - توفر فرص العمل، مما شجع على استقطاب الهجرة الداخلية والخارجية.

١- عرف ما تحته خط.

التغيير الذى يحدث لعدد السكان نتيجة للزيادة الطبيعية وغير الطبيعية

٢- استخرج من الفقرة السابقة:

- أسباب النمو السكاني الفجائي في منطقة الخليج العربية بعد اكتشاف النفط. (٢ درجتان)

ارتفاع دخل الفرد

توفر الرعاية الصحية

علل : أسباب الزيادة الغير طبيعية في دول مجلس التعاون الخليجي . من

بسبب الهجرة

(٤ درجات - لكل نقطة درجة)

(ب) **اذكر اثنين لكل مما يلي:**

١- وظائف العمالة المنزلية. ص ١٤٢ (يكتفى بنقطتين - لكل نقطة درجة)

الطباخين الساكنين الحراس

المربيات الخدم

٢- أهم الحضارات التي ظهرت في منطقة الخليج العربي. ص ١٠٥ (يكتفى بنقطتين - لكل نقطة درجة)

دلمون البحرين هيلي الامارات أم النار قطر

دبا عمان تاروت السعودية

(٤ درجات - لكل نقطة درجة)

(ج) **علل لما يلي:**

١- ظهرت الحاجة إلى إقامة العديد من الموانئ النفطية في دول الخليج العربية. ص ٩٠ (يكتفى بنقطتين - لكل نقطة درجة)

- تزايد الإنتاج النفطى لدول مجلس التعاون من الحقول البرية والبحرية

- تزايد الطلب العالمى عليه كمصدر أساسى للطاقة

٢- حدوث التلوث البحري (المائى). ص ١٣٦ (يكتفى بنقطتين - لكل نقطة درجة)

- مخلفات المصانع - مياه الصرف الزراعى - النفط ومشتقاته

- مياه الصرف الصحى غير المعالجة - النفايات الخطرة - الأمطار الحمضية

انتهت الأسئلة